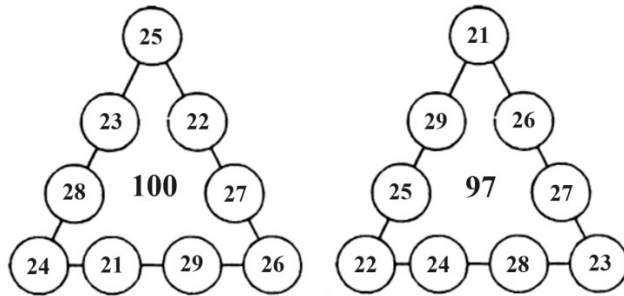


«Әл-жәбрдің атасындағы» тапсырмалар жауабы: Тай жарыс

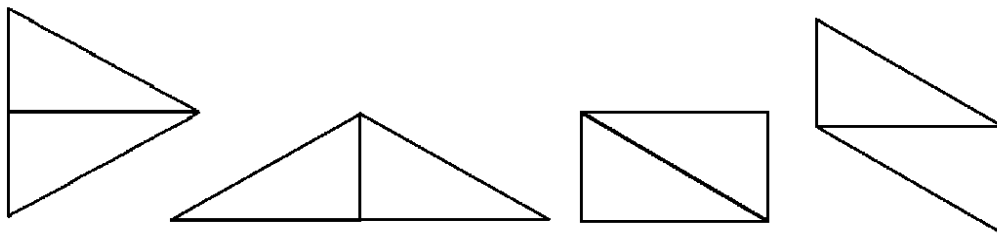
1. 1 қапта 80 кг күріш болуы керек. Бес жанұя 3 қаптан бес жанұя 2 қаптан әкеледі.
2.



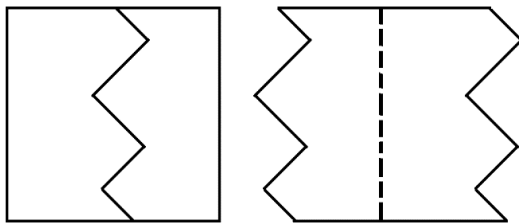
3. Аруда 4 тиын, Әлиде 7 тиын, ал Аянда 13 тиын болған.

4. 5 саны

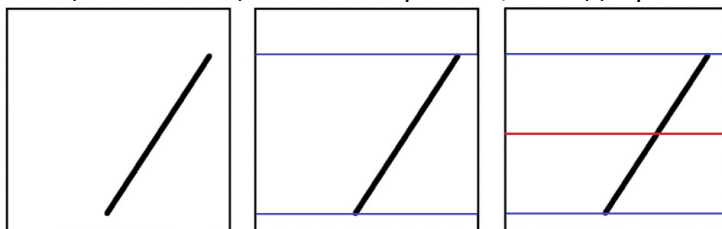
5. Мысалы, $3 \times 333 + 3 \div 3 = 1000$



7. Бұрышының саны қанша болса да алуға болады. Ол үшін келесі суреттегі мысалды келтіруге болады. Кесу тістерін көбейтсек, бұрыштардың саны да көбейеді.



8. Мысалы, алдымен көк сызықтар бойынша бүктейміз. Сосын көк сызықтар беттесетіндей етіп қызыл сызық бойымен бүктесек, кесінді ортасынан бүктеледі.



9. а) Жоқ. 2023 тақ сан болғандықтан, берілген 7 сан да тақ болуы керек. Сонда олардың қосындысы 100 бола алмайды.

б) Иә. Мысалы: 1, 2, 6, 9, 21, 27, 34 сандарын алсақ болады.